

1 ¿Qué diferencias crees que hay entre un croquis, un plano y un mapa?

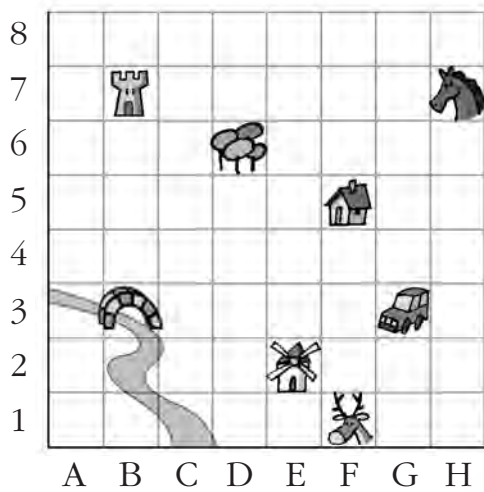
.....

.....

.....

.....

2 Observa el plano y completa.



a) ¿Qué hay en las siguientes casillas?

(F, 1) =

(G, 3) =

(B, 7) =

(H, 7) =

b) Escribe la casilla correspondiente.

Molino = (.....,)

Casa = (.....,)

Puente = (.....,)

Árbol = (.....,)

3 Completa este recorrido: A - B - C - D - E - F - G - H - I.

A (1, 0)

B (3, 1)

C (2, 6)

D (5, 3)

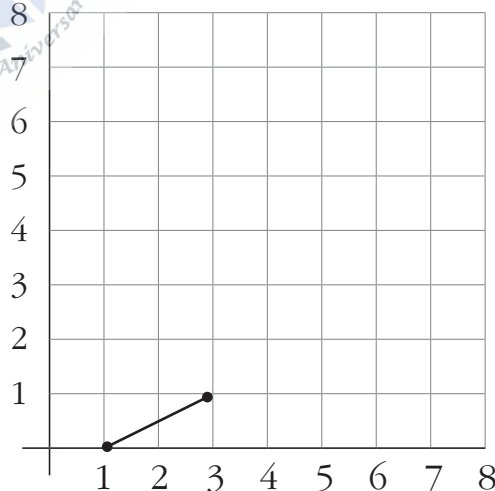
E (8, 5)

F (5, 5)

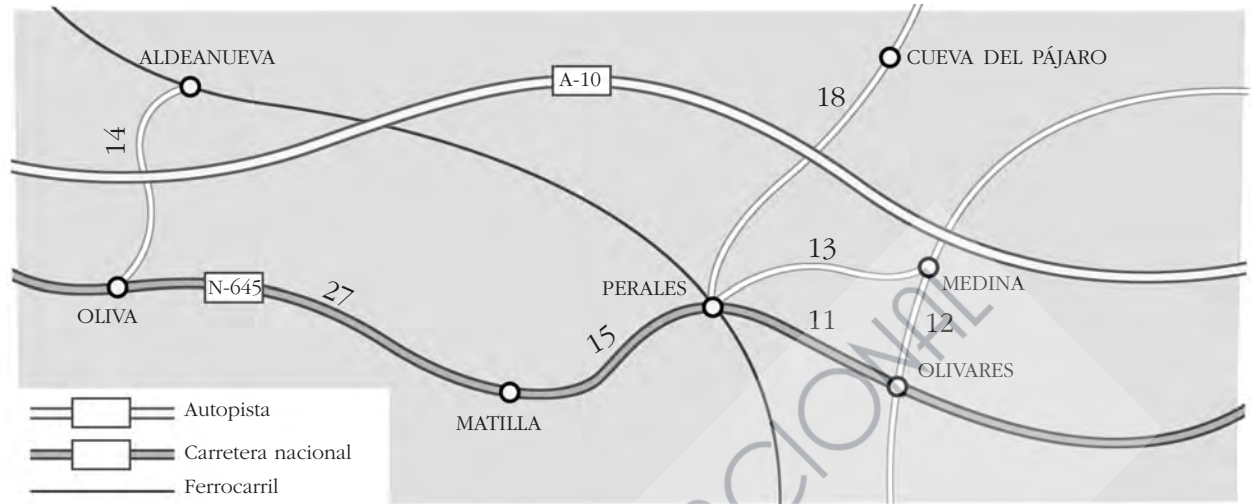
G (5, 8)

H (1, 7)

I (0, 2)



4 Observa el mapa y contesta.



a) Indica dos poblaciones que estén comunicadas por línea férrea.


.....

b) ¿De qué categoría es la carretera que une Matilla y Olivares?

.....

c) ¿Cuál es la distancia por carretera entre Cueva del Pájaro y Oliva?


.....

5 El mapa de la actividad 4 tiene esta escala gráfica: 

¿Cuál es la distancia real, en línea recta, entre Aldeanueva y Perales?

.....

6 Este es el plano del garaje de Cristina a escala 1:200. Mide con la regla y calcula las longitudes reales del largo y del ancho.



Largo =

Ancho =