

1 Observa los mapas de España y colorea:

De azul las comunidades autónomas donde destacan los cultivos de regadío.

De rojo las comunidades autónomas donde destacan los cultivos de secano.



2 Observa la fotografía. Indica qué tipo de pesca representa y escribe sus características.



.....

.....

.....

.....

.....

.....

3 Busca en la sopa de letras los diferentes tipos de ganado que podemos encontrar en nuestro país.

A	G	G	R	Q	J	A	C	S	Ñ
D	V	K	Z	V	C	F	A	N	X
O	V	I	N	O	A	L	P	Z	Q
A	I	C	C	O	P	X	R	C	O
Y	Ñ	C	P	O	R	C	I	N	O
L	K	T	I	O	L	C	N	D	U
A	Y	V	N	G	Ñ	A	O	V	C
M	A	I	L	L	E	K	S	I	A
O	V	A	C	U	N	O	A	C	V
O	M	J	F	P	W	R	Y	Z	G

Tipos de ganado

1. ....

2. ....

3. ....

4. ....

5. ....

4 ¿Qué es y para qué sirve una piscifactoría?

.....

.....

.....

.....

.....

.....

5 Explica en qué consiste la explotación forestal.

.....

.....

.....

.....

.....

.....

6 ¿Qué personas forman parte del sector secundario?

.....

.....

.....

.....

.....

.....

7 ¿Qué lugares de España destacan por la producción de...

... oro? .....

... hierro? .....

... estaño? .....

8 Escribe en qué lugares de España se producen las siguientes energías alternativas o renovables:

a) Energía hidráulica: .....

.....

b) Energía solar: .....

.....

c) Energía eólica: .....

.....

9 En España las industrias que ocupan a más personas son:


Industrias de

Industrias de       de

Industrias de       de

10 Dibuja un gráfico circular teniendo en cuenta los porcentajes de ocupación de cada uno de los sectores económicos en España. Luego colorea cada sector de un color diferente.

SECTOR	%
Primario	4
Secundario	28
Terciario	68



1 ¿Por qué crees que el sector primario ocupa solo al cuatro por ciento de la población española?

.....

.....

.....

.....

.....

2 ¿A qué tipos de pesca nos referimos cuando hablamos de pesca de arrastre, almadraba o de trasmallo?

a) Pesca de arrastre:

.....

.....

.....

.....

.....

b) Almadraba:

.....

.....

.....

.....

c) Trasmallo:

.....

.....

.....


.....



- 3** Averigua qué animales se relacionan con las siguientes ganaderías y haz un dibujo de cada tipo:

La ganadería equina: .....

La ganadería apícola: .....



- 4** Piensa y explica qué consecuencias produciría la realización de una explotación de los bosques inadecuada con talas masivas de árboles sin control.

.....

.....

.....

.....

- 5** El girasol se ha convertido en el icono de las energías renovables por su enorme aprovechamiento de la luz solar, su uso para fabricar biodiésel y su «parecido» con el Sol. Averigua qué es el biodiésel y a continuación diseña un logo que represente a las energías renovables y que esté representando por un girasol.

Biodiésel: .....

.....

.....


.....

.....

.....

.....

.....



**6** Diseña un cartel relacionado con el cuidado de los parques naturales y los bosques.



**7** ¿Consideras que la minería es una actividad peligrosa? ¿Crees que es necesario que las personas que se dedican a la minería tengan especial cuidado en su trabajo y lleven a cabo unas normas de seguridad?

.....

.....

.....

.....

**8** ¿Por qué son importantes las industrias de bienes de equipo? Escribe al menos dos ejemplos de industrias de bienes de equipo.

.....

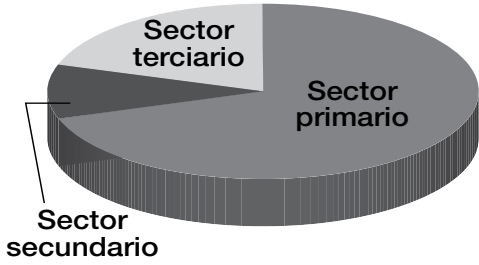
.....

.....

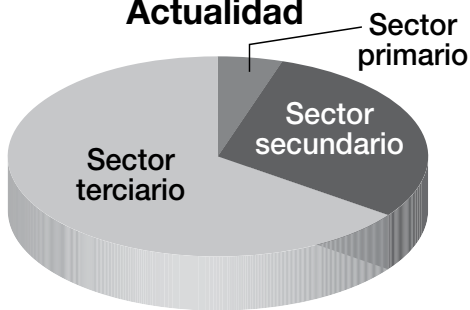


9 Observa los dos gráficos circulares y explica a qué crees que se deben los cambios en la ocupación en los diferentes sectores económicos.

**Principios del siglo XX**



**Actualidad**



.....

.....

.....

.....

.....

.....

.....

.....

.....

.....

10 Investiga sobre cómo sería el proceso industrial que se lleva a cabo para fabricar un lápiz y explícalo con tus palabras.

.....

.....

.....

.....

.....

.....

.....

.....

.....

.....

.....

.....

.....

.....

.....

.....

.....

.....

.....

.....