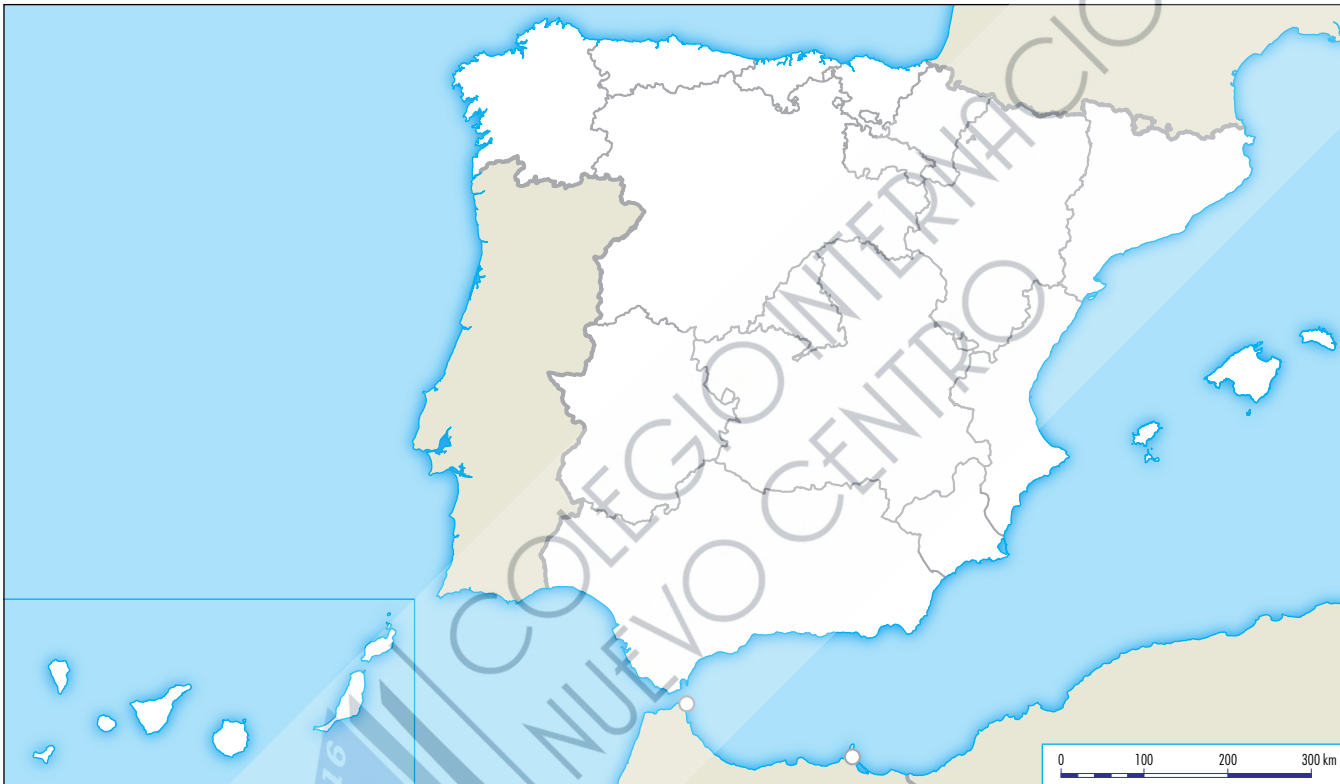


- 1 Completa las siguientes frases sobre las características del relieve de España con las palabras correspondientes:

meseta – acantiladas – montañoso – rectas

El relieve de España es muy variado y ..... Posee una gran ..... central y sus costas son ..... y .....

- 2 Localiza en el mapa los siguientes elementos que forman el territorio de España:



- 3 Une con flechas según corresponda:

- |                         |                                   |                             |
|-------------------------|-----------------------------------|-----------------------------|
| Sistema Central •       | • Sistemas exteriores a la Meseta | • Sistema Ibérico           |
| Montes de León •        |                                   | Montes de Toledo            |
| Macizo Galaico •        | • Meseta                          | • Sierra Morena             |
| Cordillera Cantábrica • |                                   | Los Pirineos                |
| Montes Vascos •         | • Sistemas que bordean la Meseta  | • Sistema Bético            |
|                         |                                   | Cordillera Costero-Catalana |

**4** Indica verdadero o falso según corresponda. A continuación, escribe correctamente las falsas.

- a) En el interior de la Meseta se encuentran el sistema Central y los Montes de Toledo.
- b) Los montes de Toledo se encuentran entre los valles del río Duero y el Tajo.
- c) La Meseta está rodeada por los montes de León, la cordillera Cantábrica, el sistema Bético y Sierra Morena.
- d) Los Pirineos separan la península ibérica de Francia.

**5** Observa ambas imágenes e indica si se trata de una meseta o un sistema montañoso. Razona tu respuesta.



- a) ..... b) .....
- .....
- .....

**6** Sigue el ejemplo e indica en cada caso de qué sistema montañoso se trata:

- a) Divide la Meseta en dos partes: .....
- b) Discurre paralela a la costa del mar Cantábrico: .....
- c) Está formada por la cordillera Penibética y la cordillera Subbética: .....
- d) Separa la Meseta del valle del Guadalquivir: .....
- e) Forma frontera natural entre España y Francia: .....

7 Une cada pico o cima con el sistema montañoso a la que pertenece:

Cabeza de Manzaneda	→	Sistema Central
Pico de Almanzor	→	Macizo Galaico
Torrecedredo		Cordillera Costero-Catalana
Turó de l'Home		Cordillera Cantábrica

8 Busca en la siguiente sopa de letras el nombre de cinco picos de la península ibérica.

M	A	E	R	T	E	I	A	V
M	U	L	H	A	C	E	N	E
O	P	E	N	I	N	O	E	L
N	S	T	V	E	L	E	T	A
C	A	A	P	A	C	O	O	N
A	I	T	Z	K	O	R	R	I
Y	A	S	T	A	Ñ	O	S	O
O	M	A	N	Z	A	N	E	D

9 Coloca cada una de las sierras según corresponda:

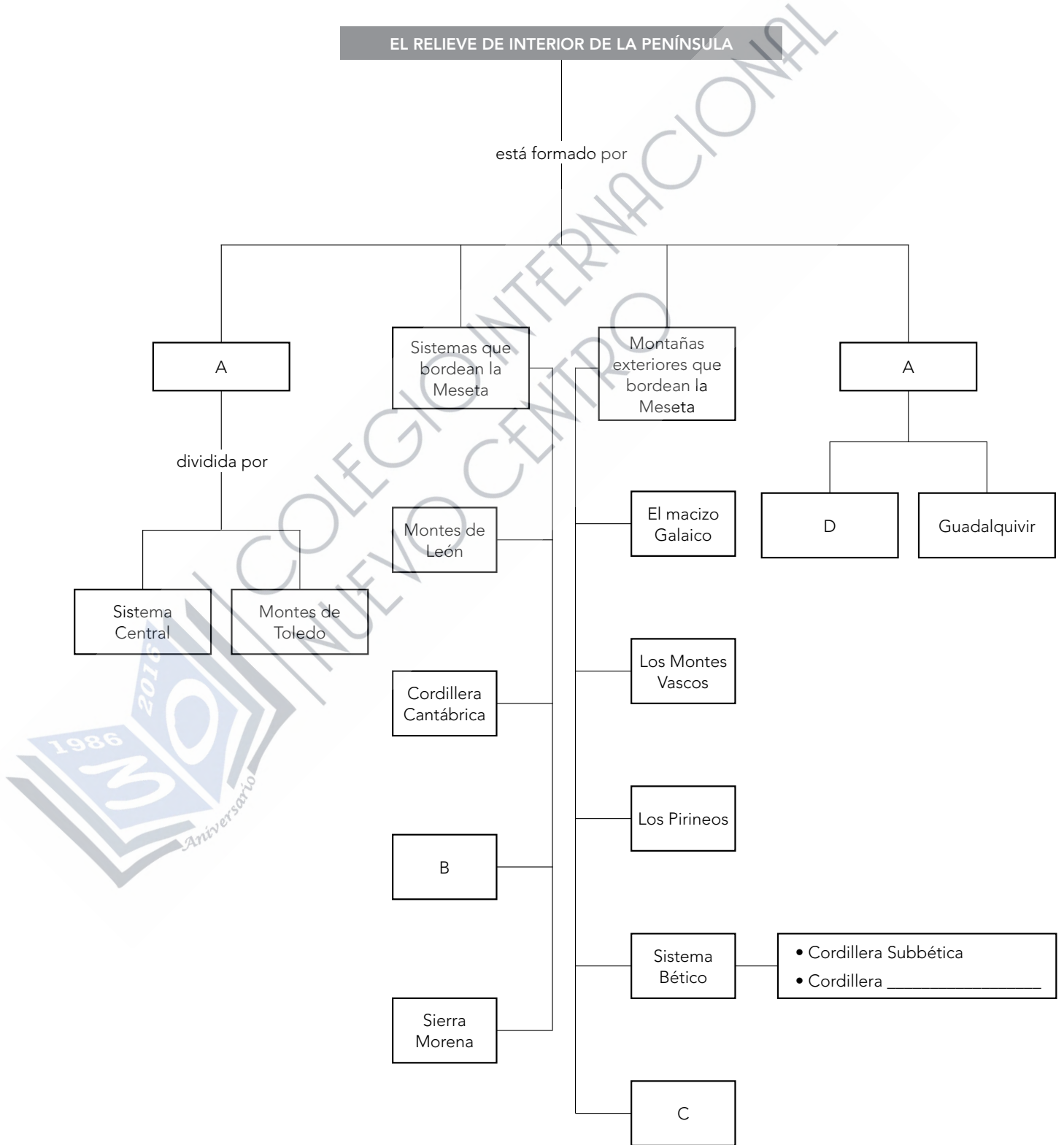
Guadarrama – Segura – Sierra Nevada – Gredos – Cazorla – Serranía de Ronda

SISTEMA CENTRAL	CORDILLERA PENIBÉTICA	CORDILLERA SUBBÉTICA

10 Indica en cada caso de qué depresión se trata:

- Situada entre el sistema Ibérico y los Pirineos. El río que discurre por ella desemboca en el mar formando un delta.
- Situada entre Sierra Morena y la cordillera Subbética. El río que discurre por ella forma una marisma en su desembocadura.

11 Completa el siguiente esquema:





1 Observa las imágenes e indica qué unidades del relieve se representan en ella.



2 Nombra dos causas naturales y otras dos causas humanas que provoquen grandes cambios o impactos medioambientales en el paisaje.

.....

.....

.....

.....

3 Busca un intruso en cada caso e indica por qué:

a) Meseta - sistema Ibérico - sistema Central - Montes de Toledo

.....

b) Ebro - Tajo - Guadalquivir

.....

c) Montes de León - cordillera Cantábrica - cordillera Penibética - Sierra Morena

.....

d) Sistema Ibérico - macizo Galaico - Montes Vascos - Pirineos

.....



4 Escribe una frase con cada grupo de palabras:

- a) Ciudades autónomas - España - península Ibérica - archipiélagos  
 b) España - montañoso - rectas y acantiladas - El relieve - variado - costas

.....

.....

.....

.....

5 Relaciona cada unidad del relieve con el sistema montañoso al que pertenece:

- |                       |   |                       |
|-----------------------|---|-----------------------|
| Pico Aitzkorri •      | • | Cordillera Cantábrica |
| Picos de Urbión •     | • | Sierra Morena         |
| Cabeza de Manzaneda • | • | Sistema Central       |
| Aneto •               | • | Cordillera Subbética  |
| Mulhacén •            | • | Cordillera Penibética |
| Sierra de Cazorla •   | • | Pirineos              |
| Guadarrama •          | • | Macizo Galaico        |
| Sierra de Aracena •   | • | Sistema Ibérico       |
| Picos de Europa •     | • | Montes Vascos         |

6 Une las tres columnas según corresponda:

a) Sistema Central	1. Separa la Meseta de la depresión del Ebro	A. Sierras de Somosierra, Guadarrama, Gata y Gredos
b) Montes de Toledo	2. Desde el golfo de Vizcaya hasta el cabo de Creus	B. Picos de Urbión, sierra de Albarracín y sierra del Moncayo
c) Sistema Ibérico	3. Divide la Meseta en submeseta norte y submeseta sur	C. Sierra del Teleno y sierra Segundera
d) Los Pirineos	4. Noroeste de la Meseta	D. Sierra de Cazorla, Segura y Sagra
e) Cordillera Subbética	5. Llanura triangular, entre el sistema Ibérico y los Pirineos	E. Forma un delta en su desembocadura
f) Depresión del Ebro	6. Pertenece al sistema Bético	F. Gran altitud de sus cordilleras

.....

.....



7 ¿En qué se parecen y en qué se diferencian las dos grandes depresiones de la península ibérica? Escribe el nombre de cada una de ellas.

.....

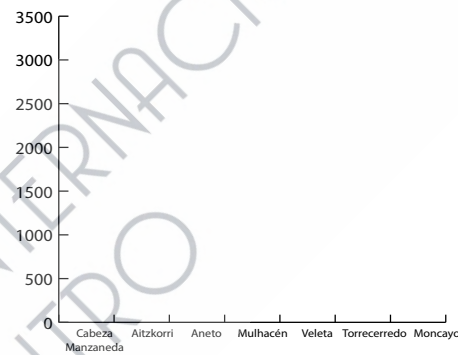
.....

.....

.....

8 Observa la siguiente tabla y realiza un diagrama de barras de las cimas más altas de la península ibérica:

Pico	Metros
Cabeza Manzaneda	1778
Aitzkorri	1528
Aneto	3404
Mulhacén	3478
Veleta	3396
Torrecedredo	2648
Moncayo	2313



9 Ordena de mayor a menor altitud las cimas de la pregunta anterior y calcula la altura media de ellas.

.....

.....

10 De las diferentes unidades del relieve que has estudiado de la península ibérica, selecciona una y busca información sobre cómo es su relieve, su vegetación, su fauna y su hidrografía.

SIERRA DE .....	
Relieve	..... .....
Vegetación	..... .....
Fauna	..... .....
Aguas	..... .....