


1 Celia ha hecho una encuesta en su pueblo para comprobar qué es lo que más le gusta ver a la gente en la televisión. Completa la tabla y contesta.

PROGRAMA	RECUENTO	TOTAL
Películas		
Dibujos		
Concursos		
Documentales		
Noticias		

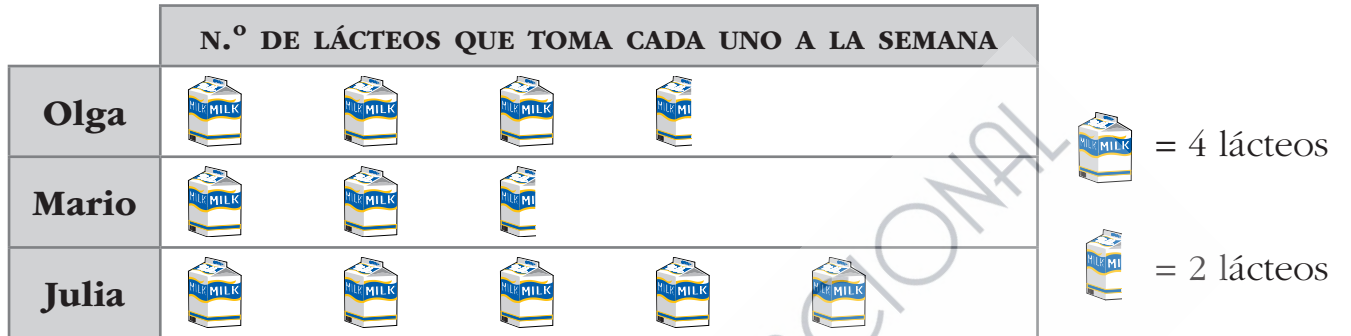
- a) ¿Cuántas personas prefieren las películas? .....
- b) ¿Cuál es el programa elegido por más personas? .....
- c) ¿Cuántas personas eligieron las noticias más que los documentales? .....
- d) ¿Cuántas personas contestaron a la encuesta? .....

2 Observa el gráfico y responde a las preguntas:



- a) ¿Qué representa el gráfico?  
.....
- b) ¿Quién realiza más horas de ejercicio? ¿Cuántas?  
.....
- c) ¿Quién realiza menos horas?  
.....
- d) Cuenta las horas que realizas de ejercicio a la semana y añade el dato a la tabla.

3 ¿Qué tipo de gráfico ha elaborado Olga para recoger los datos del número de lácteos que consume su familia en una semana?



a) ¿Quién toma más lácteos? ¿Por qué crees que ocurre esto?

.....  
.....

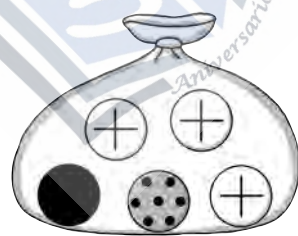
b) ¿Cuántos lácteos hay de diferencia entre los que toma Julia y los que toma Mario? .....

c) ¿Cuántos lácteos consumen entre todos a la semana? .....

4 Subraya las situaciones que son aleatorias.

- a) Tirar un penalti y meter un gol.                      c) Tirar una moneda y que caiga al suelo.  
b) Mañana amanecerá.                                      d) Tirar una moneda y que salga cruz.

5 Señala si estos sucesos son seguros (S), posibles (P) o imposibles (I):



- a) Sacar una bola completamente blanca. → .....  
b) Sacar una bola gris con puntitos. → .....  
c) Sacar una bola blanca con una cruz. → .....  
d) Sacar una bola naranja. → .....

6 ¿Qué es más probable sacar de una baraja de cartas, un oro o un 3? Razona tu respuesta.

.....  
.....