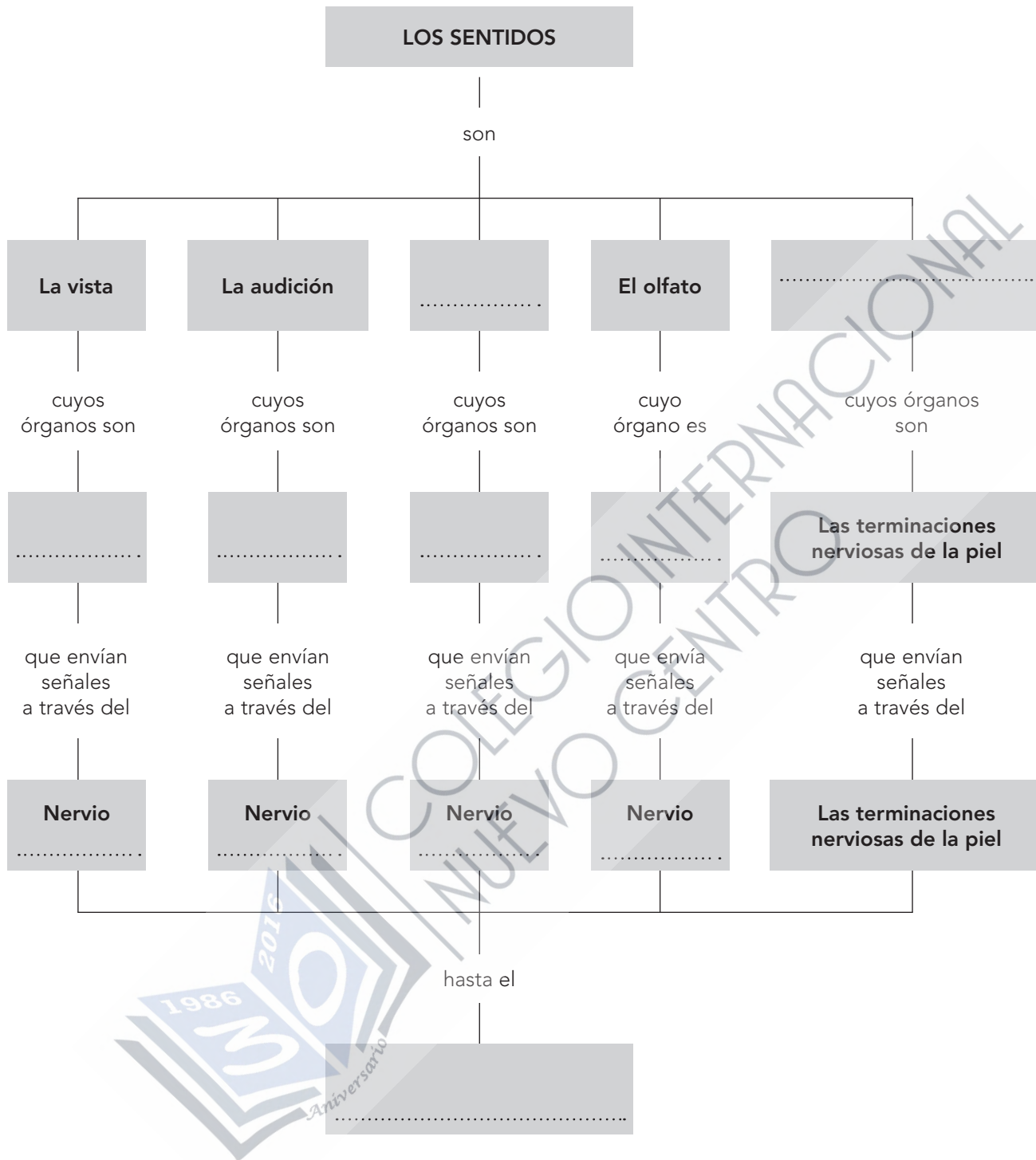


1 Observa el esquema y completa los cuadros vacíos:



2 Explica la función del sistema nervioso.

.....

.....

.....

- 3 Dibuja un esqueleto esquemático (puedes copiarlo o calcarlo) y píntalo así: los dos fémures, de azul; las tibias, de rojo; los húmeros, de amarillo; el esternón, de verde, la columna vertebral, de morado y las clavículas de negro.



- 4 Escribe en qué consiste la función de relación en las personas.

.....

.....

.....



5 Completa estas frases:

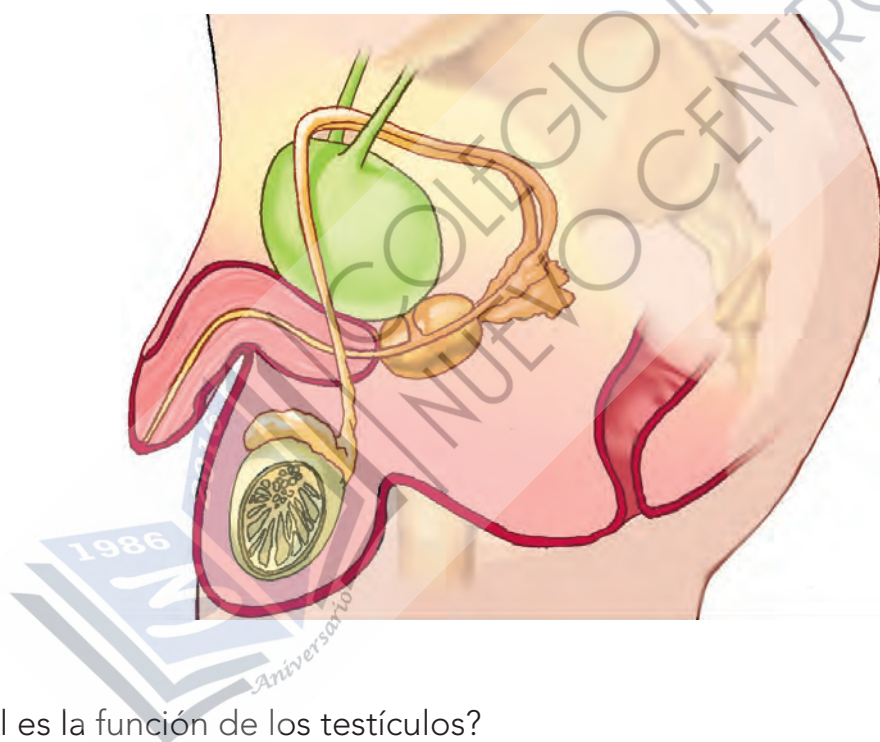
a) La es la unión de un óvulo y de un para formar un

b) La reproducción humana es porque en ella intervienen dos células: un y un

c) Somos animales porque nuestras crías se desarrollan en el aparato de nuestra madre.

6 Observa la imagen del aparato reproductor masculino.

a) Señala en ella el pene, un testículo, el escroto y la próstata.



b) ¿Cuál es la función de los testículos?

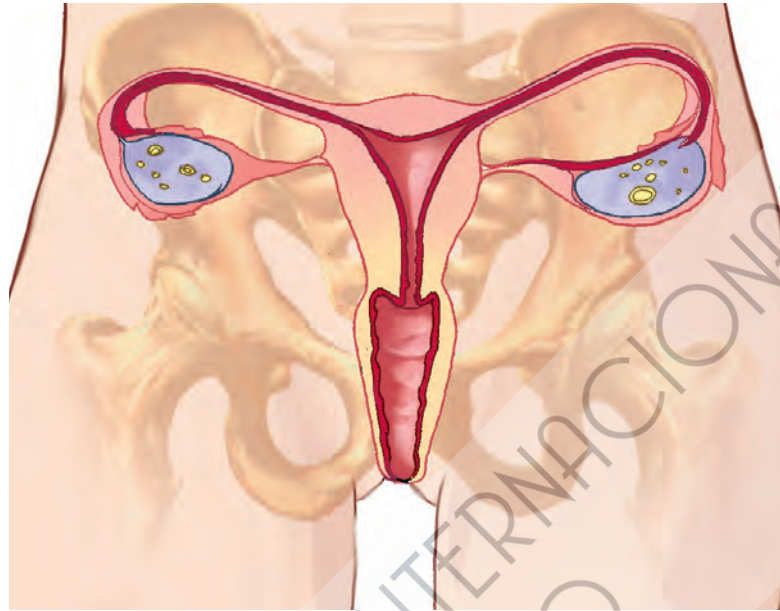
.....

c) ¿Y la del escroto?

.....

7 Observa la imagen del aparato reproductor femenino.

a) Señala en ella los ovarios, el útero, la vagina y la vulva.



b) Explica las funciones del útero y de los ovarios.

.....

.....

.....

.....

.....

.....

8 Ordena en el tiempo estas fases de la reproducción humana: FECUNDACIÓN, PARTO, EMBARAZO, PRODUCCIÓN DE ESPERMATOZOIDES Y ÓVULOS.

.....

.....

.....

.....

.....