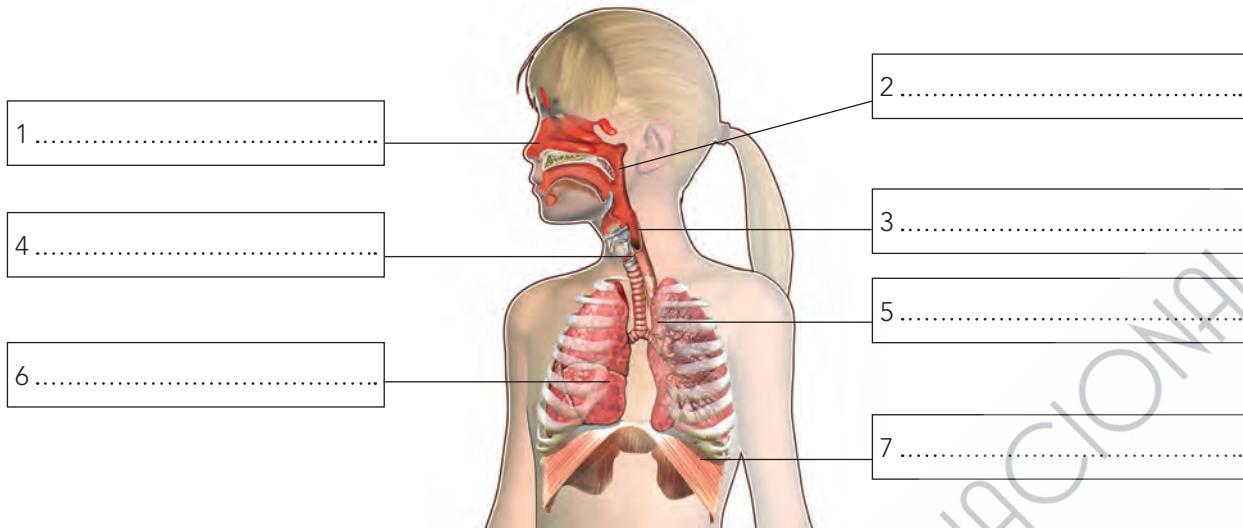


1 Completa en el dibujo las partes del aparato respiratorio.



a) ¿Qué son los alvéolos pulmonares? ¿Qué sucede en ellos?

.....

.....

.....

2 Indica que recorrido siguen los alimentos cuando los digerimos.

.....

.....

.....

3 Describe brevemente en qué consiste la función del aparato respiratorio.

.....

.....

.....

4 Nombra, las glándulas digestivas y explica su función.

.....

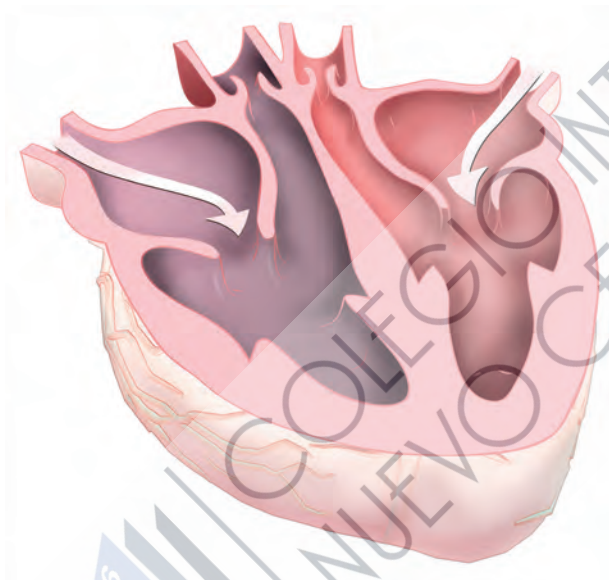
.....

.....

5 Completa las siguientes frases:

- a) La sangre recoge las de que se producen en todos los del cuerpo.
- b) El corazón impulsa la sangre y llega a todas las partes del cuerpo a través de losw que son de tres tipos: arterias,, y y regresa de nuevo al corazón.
- c) La sangre transporta el y los nutrientes y los lleva a todos los del cuerpo.

6 Explica lo que sucede en los siguientes dibujos:



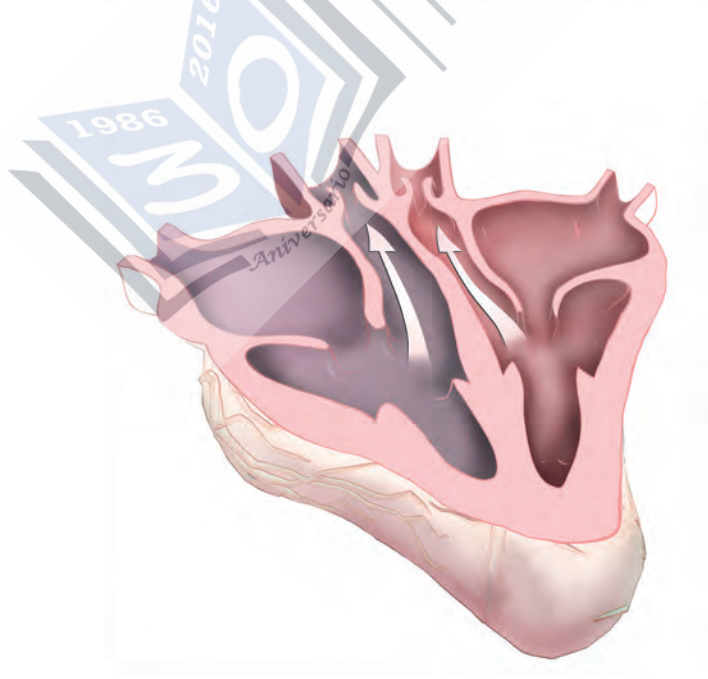
a)

.....

.....

.....

.....



b).....

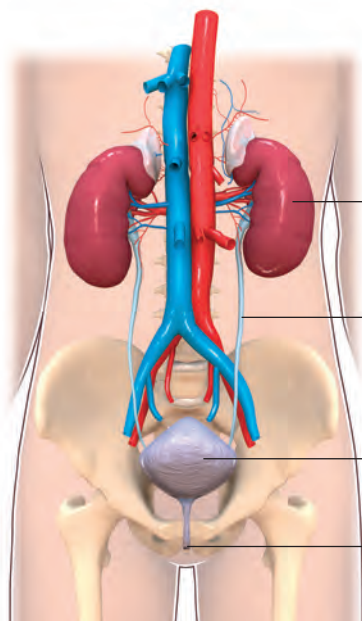
.....

.....

.....

.....

7 Completa en el dibujo las partes del aparato excretor.



1

2

3

4

¿Qué función realizan los riñones?

.....

.....

.....

.....

8 Di dónde se forman estas sustancias de desecho y por dónde se expulsan.

a) La orina:

b) El sudor:

c) El dióxido de carbono:

9 Explica brevemente cómo funcionan las glándulas sudoríparas.

.....

.....

.....

.....

.....