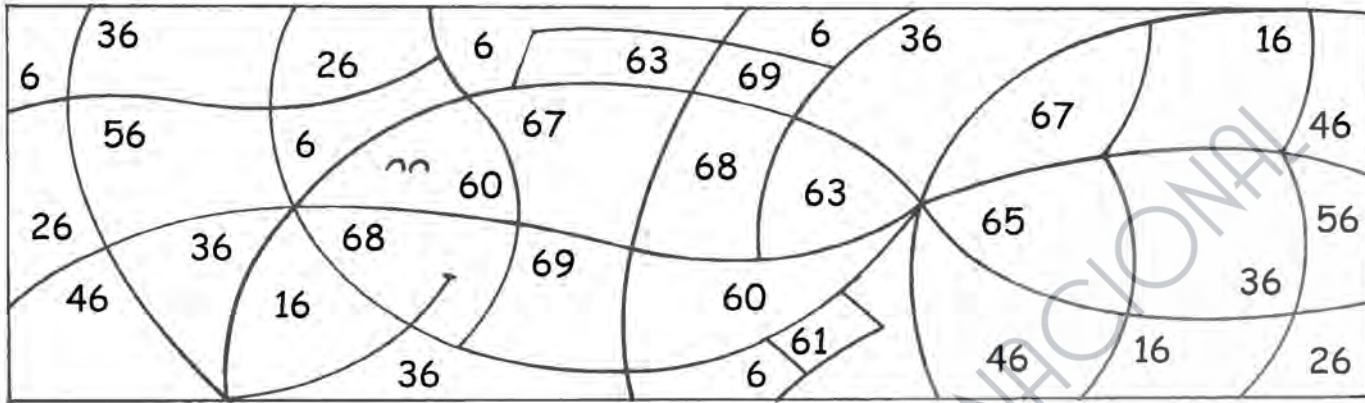


1 Colorea de azul los números que tienen la cifra 6 en las decenas y de naranja los que tienen la cifra 6 en las unidades.



2 Suma y resta.

$$\begin{array}{r} 65 \\ -42 \\ \hline \square \end{array}$$

$$\begin{array}{r} 33 \\ +25 \\ \hline \square \end{array}$$

$$\begin{array}{r} 68 \\ -23 \\ \hline \square \end{array}$$

$$\begin{array}{r} 14 \\ +51 \\ \hline \square \end{array}$$

$$\begin{array}{r} 66 \\ -40 \\ \hline \square \end{array}$$

3 Observa y colorea las respuestas correctas.

OCTUBRE						
L	M	X	J	V	S	D
		1	2	3	4	5
6	7	8	9	10	11	12
13	14	15	16	17	18	19
20	21	22	23	24	25	26
27	28	29	30	31		

¿Cuántos días tiene este mes?

treinta y uno

veintiséis

¿Cuál es el mes anterior?

septiembre


diciembre

¿Cuál es el mes posterior?

diciembre

noviembre

4 Colorea el número mayor y tacha el menor.



5 Calcula y une cada operación con su resultado.

$$\begin{array}{r} 62 \\ -30 \\ \hline \square \end{array}$$

$$\begin{array}{r} 12 \\ +53 \\ \hline \square \end{array}$$

$$\begin{array}{r} 57 \\ -12 \\ \hline \square \end{array}$$

$$\begin{array}{r} 26 \\ +42 \\ \hline \square \end{array}$$

$$\begin{array}{r} 69 \\ -26 \\ \hline \square \end{array}$$

45



32



65



43



68



6 Escribe, ordenados, los meses del año.

.....

.....

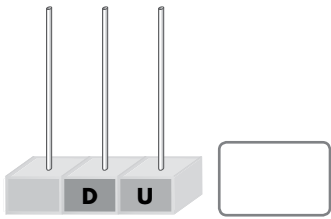
.....

.....

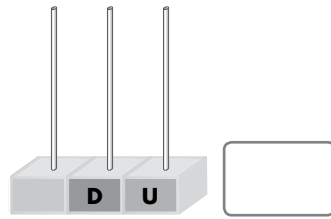
.....

.....

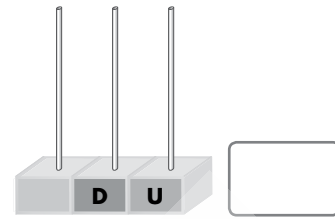
## 1 Completa.



$$50 + 5$$



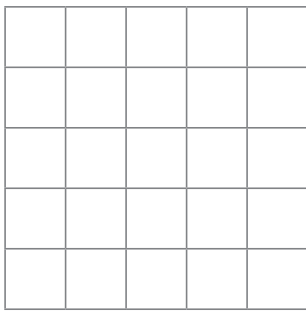
Sesenta y tres




$$60 + 1$$

## 2 Coloca y calcula siguiendo las indicaciones: 56, 35, 31 y 67.

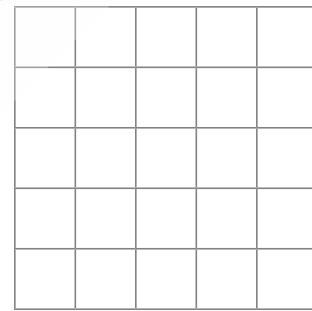
Resta al número mayor el número menor.



Suma los dos números menores.



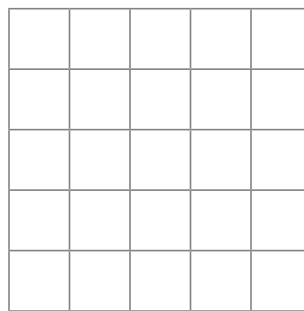
Resta al número mayor el número con 5D y 6U.



## 3 Lee, selecciona los datos y resuelve.


Hemos pescado 43 lenguados, 6 langostas y 25 merluzas. ¿Cuántos peces hemos pescado?





Hemos pescado 


- 4** Escribe tres números que tengan la cifra 6 en las decenas para el tiburón y tres números que tengan la cifra 6 en las unidades para la sardina







- 5** Coloca y resuelve las siguientes operaciones.

3D y 2U  
más  
3D 6U

D	U

60 + 5  
menos  
30 + 1

D	U

5D y 9U  
menos  
2D 2U

D	U

20 + 4  
más  
30 + 5

D	U

- 6** Escribe el día y el mes del cumpleaños de cada niño.



Mi cumpleaños es el día anterior al 27 del mes posterior a octubre.

El mío es el día posterior al 19 del mes anterior a mayo.





