


1 Escribe las series.



2 Suma y colorea del mismo color los resultados iguales.

$$\begin{array}{r} 26 \\ + 12 \\ \hline \square \end{array}$$

$$\begin{array}{r} 33 \\ + 10 \\ \hline \square \end{array}$$

$$\begin{array}{r} 17 \\ + 32 \\ \hline \square \end{array}$$

$$\begin{array}{r} 25 \\ + 23 \\ \hline \square \end{array}$$


$$\begin{array}{r} 21 \\ + 22 \\ \hline \square \end{array}$$

$$\begin{array}{r} 32 \\ + 16 \\ \hline \square \end{array}$$

$$\begin{array}{r} 14 \\ + 24 \\ \hline \square \end{array}$$

$$\begin{array}{r} 36 \\ + 13 \\ \hline \square \end{array}$$

3 Colorea, en cada caso, el recipiente con mayor capacidad.




- 4 Escribe los números y dibuja el número mayor en el ábaco.

4 D y 2 U → 

2 D y 4 U → 

4 D y 7 U → 



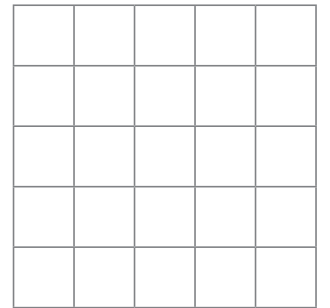
- 5 Lee y resuelve.

Lula se comió 13 huesos este mes y 15 huesos el mes pasado. ¿Cuántos huesos se ha comido en total?

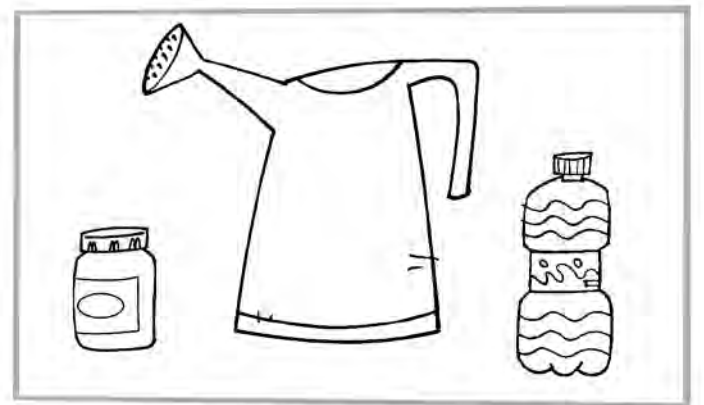
Este mes .

El mes pasado .

Se ha comido huesos.



- 6 Colorea de azul donde cabe más y de verde donde cabe menos.



1 Completa.

$4D \text{ y } 3U \rightarrow 43$

$40 + \square = 43$

$4D \text{ y } 5U \rightarrow \square$

$40 + \square = 45$

$4D \text{ y } 9U \rightarrow 49$

$40 + \square = \square$

$4D \text{ y } 1U \rightarrow \square$

$\square + \square = 41$

$4D \text{ y } 6U \rightarrow 46$

$\square + \square = \square$

$4D \text{ y } 2U = \square$

$\square + \square = \square$

2 Coloca, suma y rodea los resultados con 4 decenas.


$35 + 12$

$31 + 8$

$26 + 22$

$31 + 8$

3 Lee y responde.




Con 4 vasos llenamos 1 jarra.

¿Puedo llenar dos jarras con 7 vasos?

¿Por qué?

--

- 4 Escribe estos números donde les corresponde.



La cifra cuatro en las decenas

La cifra tres en las decenas

La cifra cuatro en las unidades

- 5 Rodea las operaciones correctas y tacha las que están mal resueltas.

$$\begin{array}{r} 36 \\ + 13 \\ \hline 29 \end{array}$$

$$\begin{array}{r} 24 \\ + 23 \\ \hline 47 \end{array}$$

$$\begin{array}{r} 35 \\ + 10 \\ \hline 40 \end{array}$$

$$\begin{array}{r} 22 \\ + 17 \\ \hline 39 \end{array}$$

$$\begin{array}{r} 34 \\ + 14 \\ \hline 48 \end{array}$$

- 6 Ordena y escribe los nombres de los recipientes de menor a mayor capacidad.



