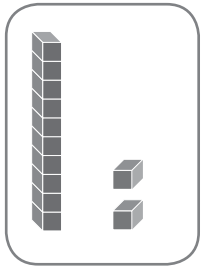



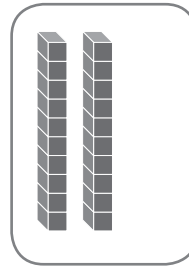
1 Completa dibujando las decenas y las unidades que faltan.



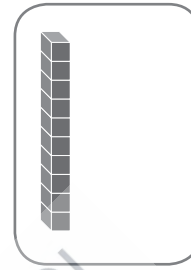
24



36



30



32

2 Suma.

$$\begin{array}{r} 4 > \square \\ 2 > \square \\ + 8 \\ \hline \square \end{array}$$

$$\begin{array}{r} 6 > \square \\ 1 > \square \\ + 5 \\ \hline \square \end{array}$$

$$\begin{array}{r} 3 > \square \\ 5 > \square \\ + 5 \\ \hline \square \end{array}$$

$$\begin{array}{r} 5 > \square \\ 4 > \square \\ + 1 \\ \hline \square \end{array}$$

3 Escribe un número menor en cada caso.

| | |
|--|---|
| | 8 |
|--|---|

| | |
|--|----|
| | 25 |
|--|----|


| | |
|--|----|
| | 32 |
|--|----|

| | |
|--|----|
| | 16 |
|--|----|

| | |
|--|----|
| | 17 |
|--|----|

| | |
|--|----|
| | 39 |
|--|----|

4 ¿Qué pesa más de cada pareja? Colorea.




- 5 Completa la serie y colorea los números que tengan la cifra 3 en las decenas.

| | | | | | | | | | |
|----|----|--|----|----|----|--|--|----|----|
| 10 | | | 13 | | | | | | 19 |
| | 21 | | | 24 | | | | 28 | |
| 30 | | | | | 35 | | | | |

- 6 Rodea el número mayor y tacha el menor.

| | | |
|----------|----------|----------|
| 6 13 9 | 25 24 27 | 32 7 19 |
| 16 12 15 | 44 22 11 | 28 8 18 |
| 23 32 33 | 10 3 19 | 26 21 19 |

- 7 Colorea de rojo lo que pesa más y rodea lo que pesa menos.



1 Suma y escribe.

$$\begin{array}{r} 6 \\ 2 \\ + 9 \\ \hline \square \end{array}$$

$$\begin{array}{r} 3 \\ 6 \\ + 5 \\ \hline \square \end{array}$$

$$\begin{array}{r} 5 \\ 4 \\ + 2 \\ \hline \square \end{array}$$

$$\begin{array}{r} 2 \\ 1 \\ + 9 \\ \hline \square \end{array}$$

$$\begin{array}{r} 5 \\ 3 \\ + 7 \\ \hline \square \end{array}$$

$$\begin{array}{r} 1 \\ 3 \\ + 9 \\ \hline \square \end{array}$$

2 Lee y resuelve.

Lidia tiene en su casa 6 libros de animales,
4 libros de aventuras y 5 libros de viajes.
¿Cuántos libros tiene Lidia en su casa?

| | |
|--|--|
| | |
| | |
| | |

| | |
|--|--|
| | |
| | |
| | |

| | |
|--|--|
| | |
| | |
| | |



| | | | | |
|--|--|--|--|--|
| | | | | |
| | | | | |
| | | | | |
| | | | | |
| | | | | |

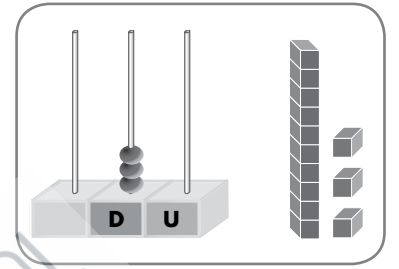
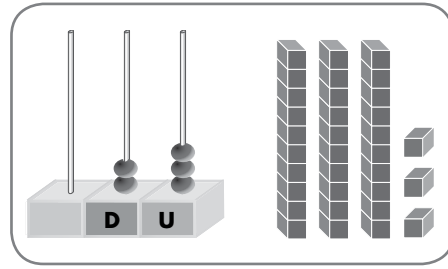
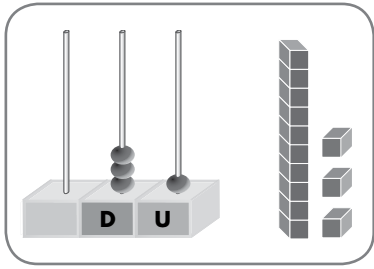
Lidia tiene libros.

3 Ordena los números de menor a mayor.

23 - 19 - 38 - 27 - 18

< < < <

4 Rodea el número mayor de cada pareja.



5 Escribe los números.


4 D y 5 U → _____

4 D y 2 U → _____

4 D → _____

4 D y 6 U → _____

6 Señala qué tengo que hacer para nivelar la balanza.



Quitar las 10 galletas y poner 3 galletas donde hay 2.

Quitar 4 galletas y ponerlas donde hay 2.

