
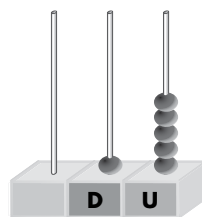
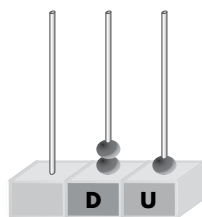
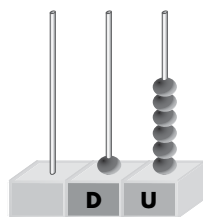
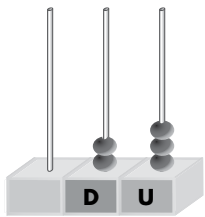


1 Tacha el número que no representa el ábaco.



13 23

26 16

21 12

25 15

25 52

2 Suma.

$$\begin{array}{r} 7 \\ + 3 \\ \hline \square \end{array}$$

$$\begin{array}{r} 6 \\ + 5 \\ \hline \square \end{array}$$

$$\begin{array}{r} 8 \\ + 2 \\ \hline \square \end{array}$$

$$\begin{array}{r} 6 \\ + 6 \\ \hline \square \end{array}$$

$$\begin{array}{r} 9 \\ + 4 \\ \hline \square \end{array}$$

$$\begin{array}{r} 8 \\ + 7 \\ \hline \square \end{array}$$

3 Resta.

$$\begin{array}{r} 6 \\ - 3 \\ \hline \square \end{array}$$

$$\begin{array}{r} 8 \\ - 2 \\ \hline \square \end{array}$$

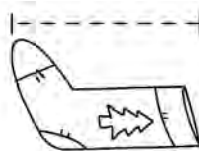

$$\begin{array}{r} 9 \\ - 7 \\ \hline \square \end{array}$$

$$\begin{array}{r} 5 \\ - 5 \\ \hline \square \end{array}$$

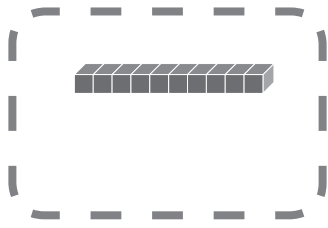
$$\begin{array}{r} 7 \\ - 6 \\ \hline \square \end{array}$$

$$\begin{array}{r} 9 \\ - 3 \\ \hline \square \end{array}$$

4 ¿Qué mide más de un metro? Colorea.



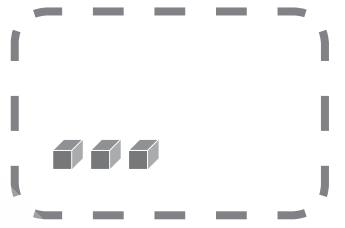
5 Dibuja el número posterior al dado.



24



19



26

6 Escribe el número anterior al dado.

	4
--	---

	10
--	----

	18
--	----

	7
--	---

	24
--	----

	15
--	----

	13
--	----

	28
--	----

	11
--	----

7 Une los puntos del 0 al 29 y descubrirás qué quio a los Reyes Magos.



1 Completa.

Tiene 2 D y 2 U → 20 + 2 →

Tiene 1 D y 6 U → + →

Tiene 1 D y 1 U → + →

2 Lee y resuelve.

Marcos ya se ha comido 3 galletas del árbol. Si quedan 8 galletas, ¿cuántas había para Navidad?



Se ha comido .

Quedan .

Había galletas.



$$\begin{array}{r} \square \\ \square \\ \hline \square \end{array}$$

3 Averigua qué número corresponde a cada adorno.

8 +  = 


 - 2 =

 +  =

 +  =

 →

 →

 →

- 4 Calcula y sabrás qué dulce navideño se comió Juan.

$\begin{array}{r} 4 \\ +5 \\ \hline \end{array}$	$\begin{array}{r} 9 \\ +9 \\ \hline \end{array}$	$\begin{array}{r} 8 \\ -2 \\ \hline \end{array}$	$\begin{array}{r} 6 \\ +9 \\ \hline \end{array}$	$\begin{array}{r} 9 \\ -4 \\ \hline \end{array}$	$\begin{array}{r} 8 \\ +8 \\ \hline \end{array}$
V <input type="text"/>	N <input type="text"/>	O <input type="text"/>	R <input type="text"/>	S <input type="text"/>	L <input type="text"/>

$\begin{array}{r} 7 \\ -3 \\ \hline \end{array}$	$\begin{array}{r} 8 \\ +5 \\ \hline \end{array}$
E <input type="text"/>	P <input type="text"/>



- 5 Escribe el número anterior y el posterior.

<input type="text"/> ← Tengo 2 D → <input type="text"/>	<input type="text"/> ← catorce → <input type="text"/>
---	---

<input type="text"/> ← 20 + 3 → <input type="text"/>	<input type="text"/> ← 2 D y 8 U → <input type="text"/>
--	---

- 6 Señala qué tengo que hacer para medir con la regla.

Coloca el 1 al comienzo de la línea y mira hasta qué número llega.

Coloca el 0 al comienzo de la línea y mira hasta qué número llega.

Coloca el 0 donde quieras y mira hasta qué número llega.

