

1 Representa cada número en el ábaco.

D	U
1	3

D	U
	8

D	U
1	4

D	U
1	5

D	U
1	0

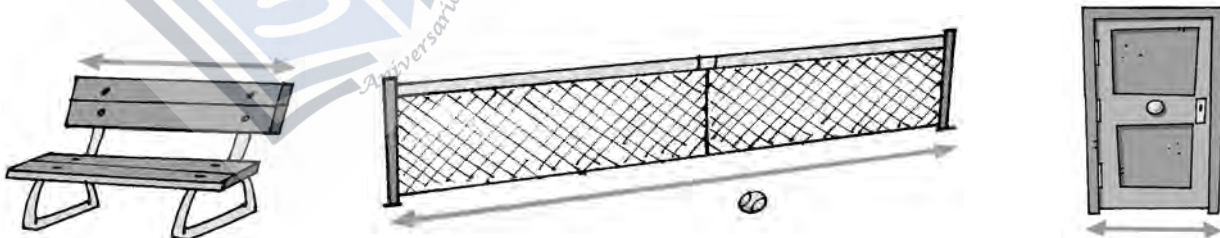
D	U
1	2

2 Resuelve y colorea las verduras que tengan los resultados.

$\begin{array}{r} 8 \\ - 8 \\ \hline \end{array}$	$\begin{array}{r} 7 \\ - 1 \\ \hline \end{array}$	$\begin{array}{r} 6 \\ - 2 \\ \hline \end{array}$	$\begin{array}{r} 5 \\ - 0 \\ \hline \end{array}$	$\begin{array}{r} 9 \\ - 2 \\ \hline \end{array}$	$\begin{array}{r} 8 \\ - 6 \\ \hline \end{array}$
<input type="checkbox"/>	<input type="checkbox"/>	<input type="checkbox"/>	<input type="checkbox"/>	<input type="checkbox"/>	<input type="checkbox"/>



3 Une con la medida más adecuada: palmo, paso o pie.



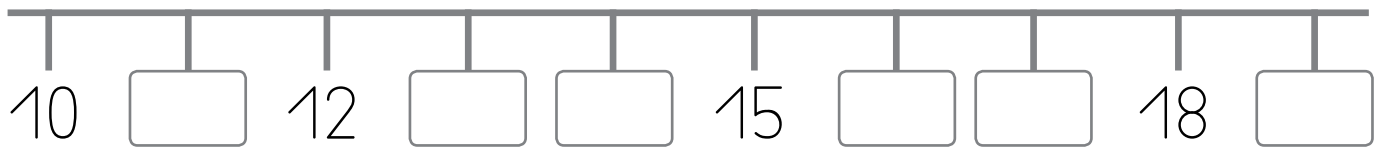
pie

palmo

paso




4 Completa la serie.



5 Calcula y une.


$$\begin{array}{r} 8 \\ - 4 \\ \hline \square \end{array}$$

$7 - 5 = \square$




$$\begin{array}{r} 9 \\ - 8 \\ \hline \square \end{array}$$

$8 - 4 = \square$



$$\begin{array}{r} 6 \\ - 0 \\ \hline \square \end{array}$$

$9 - 8 = \square$



$$\begin{array}{r} 7 \\ - 5 \\ \hline \square \end{array}$$

$6 - 0 = \square$



6 Escribe la medida más adecuada en cada caso.

Mido el largo de un radiador con

Mido el largo del patio del colegio con

Mido el ancho de mi aula con



1 Escribe el número con cifras.

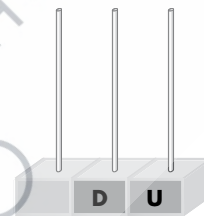
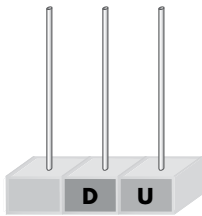
doce  $\rightarrow$   dieciséis  $\rightarrow$   quince  $\rightarrow$

once  $\rightarrow$   dieciocho  $\rightarrow$   catorce  $\rightarrow$

2 Lee, completa y dibuja.

1 D y 9 U  $\rightarrow$   +

10 + 7  $\rightarrow$



3 Lee, coloca y calcula.

ocho + seis

□
○ □
□

siete - dos

□
○ □
□

cinco - cinco

□
○ □
□

4 Quita dos y colorea las casillas.

19 18 17 16 15 14 13 12 11 10

9 8 7 6 5 4 3 2 1 0



5 Escribe los números y completa.

$$\boxed{10} + \boxed{1}$$


D	U
1	1

$$\boxed{10} + \boxed{8}$$


--	--

$$\boxed{\phantom{00}} + \boxed{\phantom{00}}$$


1	5
---	---

$$\boxed{10} + \boxed{2}$$


--	--

6 Coloca donde corresponda y calcula.

$$\boxed{7 - 5}$$

$$\boxed{8 + 6}$$

$$\boxed{9 - 3}$$

$$\boxed{8 - 5}$$

○	
—	

○	
—	


○	
—	

○	
—	

7 Rodea cuánto puede medir.



2 palmos - 2 pasos



2 palmos - 2 pasos

