




1 Completa los pétalos que faltan a cada flor.



7



9



6



8

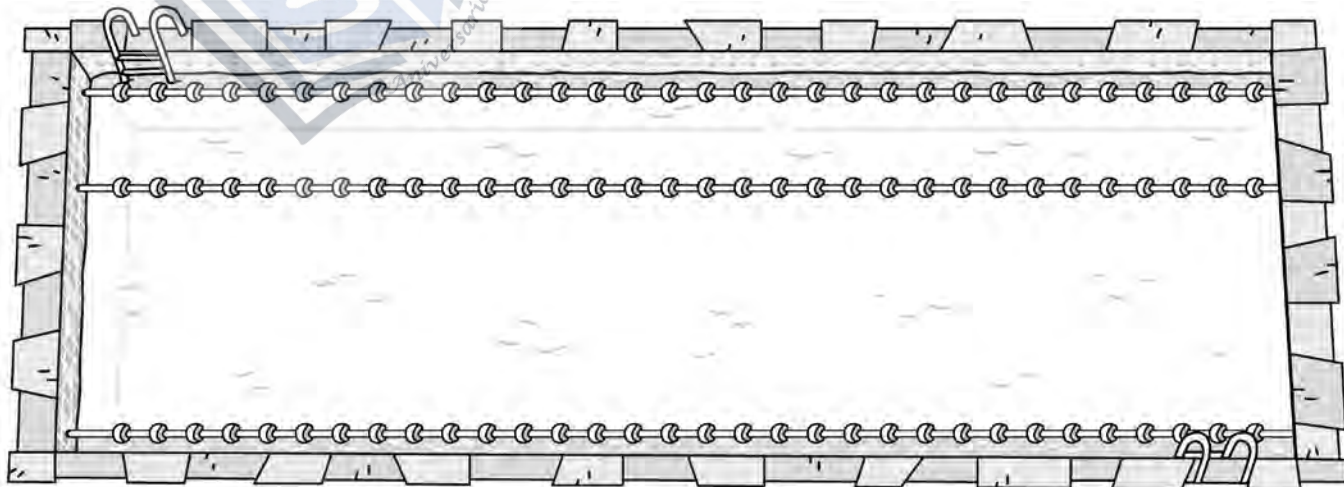
2 ¿Cuántas quedan? Completa y dibuja el resultado.



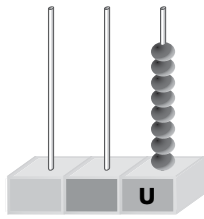
$$\square - \square = \square$$

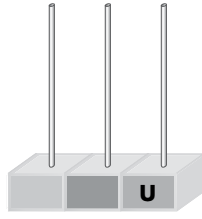
$$\square - \square = \square$$

3 Colorea la calle más ancha de la piscina.

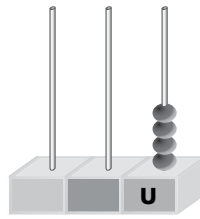


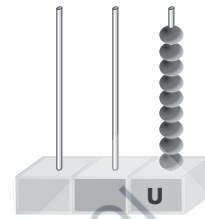
4 Completa y escribe el número.






6







3

5 Lee, tacha y resuelve.

En el patio tenemos 7 . Damos 5.

¿Cuántas  nos quedan?



Nos quedan .

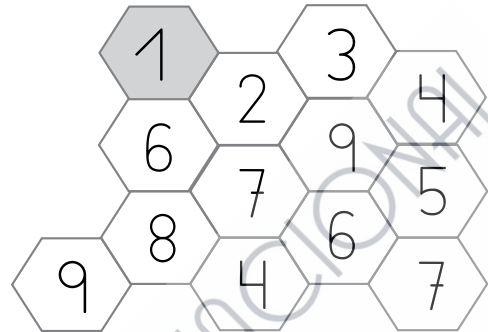
6 Colorea así: largo → amarillo corto → azul.



1 Colorea los caminos siguiendo la serie.

1	6	4	2
2	3	9	5
1	7	6	3
8	3	9	5
9	7	9	7

1	2	7	2	1	4	6	1
9	8	3	6	5	3	2	3



2 Lee y resuelve.

Mateo tenía 9 pasteles de nata. Se comió 4.
¿Cuántos pasteles le quedan a Mateo?

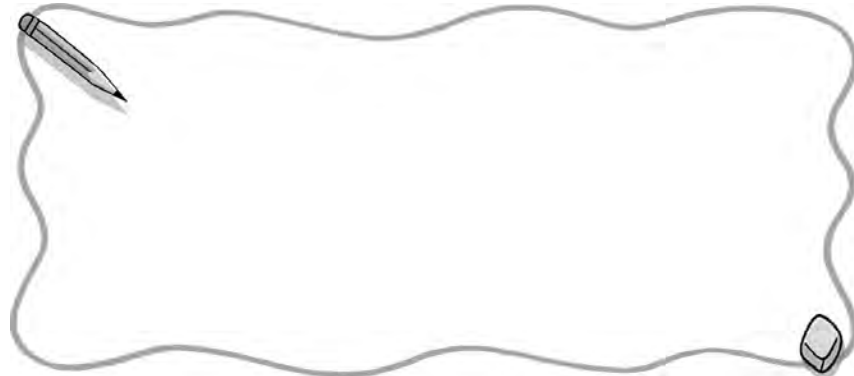
Tenía 

Se comió 

$$\square - \square = \square$$

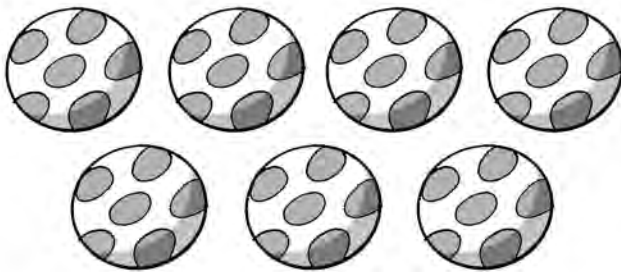
Le quedan 

3 Dibuja una camiseta más ancha y un pantalón más corto.




- 4** Cuenta, colorea y escribe el número de objetos de cada grupo.

5	6	7	8	9
---	---	---	---	---



5	6	7	8	9
---	---	---	---	---




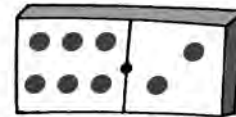
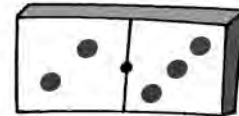
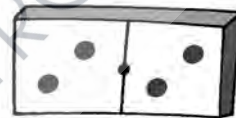
- 5** Calcula y une con la ficha que representa al resultado.

$8 - 3 = \square$

$6 - 4 = \square$

$9 - 5 = \square$

$8 - 0 = \square$



- 6** Colorea al atleta que está delante del que salta.

