

1 Escribe el número y cómo se lee.

8 D y 4 U → → _____

3 D y 6 U → → _____

8 D y 9 U → → _____

7 D y 5 U → → _____

8 D y 2 U → → _____

2 Suma y rodea el resultado mayor.

$$\begin{array}{r} 46 \\ + 24 \\ \hline \end{array}$$

$$\begin{array}{r} 38 \\ + 22 \\ \hline \end{array}$$

$$\begin{array}{r} 57 \\ + 13 \\ \hline \end{array}$$

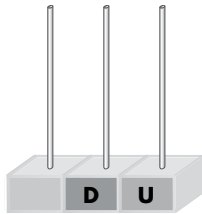
$$\begin{array}{r} 29 \\ + 44 \\ \hline \end{array}$$

$$\begin{array}{r} 18 \\ + 34 \\ \hline \end{array}$$

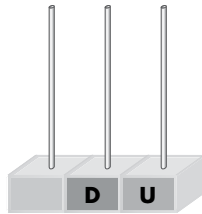
3 Rodea las monedas que necesitas.



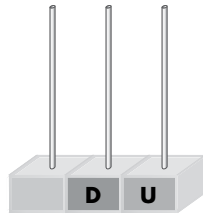
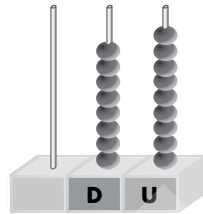
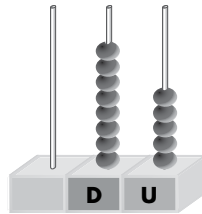
4 Completa.



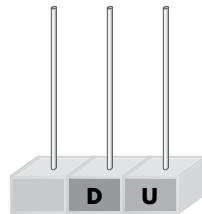
84



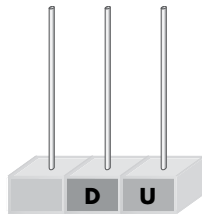
8 D



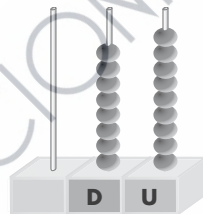
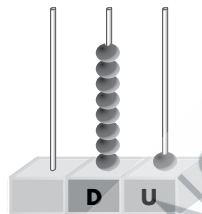
8 D y 2 U



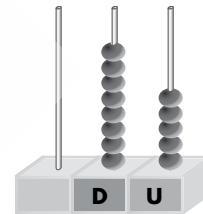
7 D y 7 U



6 D y 9 U



50



5 Suma.



$$\begin{array}{r} 49 \\ + 26 \\ \hline \end{array}$$

$$\begin{array}{r} 44 \\ + 37 \\ \hline \end{array}$$

$$\begin{array}{r} 56 \\ + 16 \\ \hline \end{array}$$

$$\begin{array}{r} 28 \\ + 58 \\ \hline \end{array}$$

6 Calcula y colorea la hucha donde hay más dinero.



céntimos.



céntimos.




céntimos.

1 Ordena de menor a mayor:


85 69 68 87 86 62

□ < □ ○ □ ○ □ ○ □ ○ □

2 Clasifica los números anteriores.



□ □
□ □



□ □
□ □

3 Comprueba los resultados y resuelve las operaciones correctamente.

$$\begin{array}{r} 65 \\ + 19 \\ \hline 74 \end{array}$$

□

$$\begin{array}{r} 68 \\ - 24 \\ \hline 84 \end{array}$$

□

$$\begin{array}{r} 46 \\ + 36 \\ \hline 84 \end{array}$$

□

$$\begin{array}{r} 57 \\ - 25 \\ \hline 42 \end{array}$$

□

$$\begin{array}{r} 76 \\ + 13 \\ \hline 73 \end{array}$$

□



4 Lee y resuelve.

Paola tenía 89 céntimos. Ha pagado en la tienda de animales 55 céntimos. ¿Cuántos céntimos le quedan a Paola?

□

□

□

| | | | | |
|--|--|--|--|--|
| | | | | |
| | | | | |
| | | | | |
| | | | | |
| | | | | |

5 Adivina el número y escríbelo.

Tiene 2 D más que 63. →

El número mayor con la cifra 8 en las decenas. →

Tiene 4 U menos que 86. →

El número anterior a 80. →

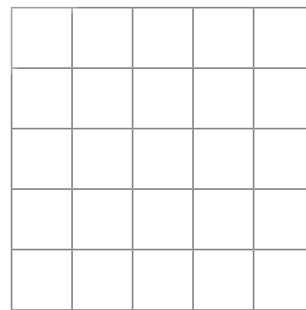

Tiene la cifra 8 en las decenas y sus cifras suman 12. →

6 Coloca y suma.

$$37 + 38$$

$$55 + 26$$

$$49 + 23$$



Recuerda la decena sin escribirla.

**7** Dibuja tres formas distintas de reunir 83 céntimos.