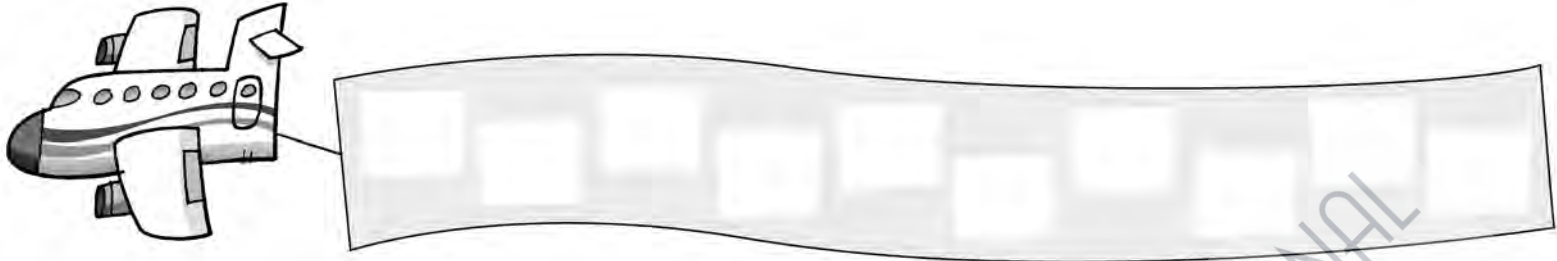


- 1 Escribe los números que tengan la cifra 7 en las decenas de mayor a menor.



- 2 Escribe el signo que corresponda:  $>$ ,  $<$  o  $=$ .

$45 \bigcirc 27$

$17 \bigcirc 71$

$64 \bigcirc 64$

$34 \bigcirc 43$

$60 \bigcirc 50$

$76 \bigcirc 72$

- 3 Suma.

$$\begin{array}{r} 14 \\ 3 \\ + 22 \\ \hline \square \end{array}$$

$$\begin{array}{r} 33 \\ 10 \\ + 21 \\ \hline \square \end{array}$$

$$\begin{array}{r} 40 \\ 5 \\ + 13 \\ \hline \square \end{array}$$

$$\begin{array}{r} 27 \\ 20 \\ + 22 \\ \hline \square \end{array}$$

$$\begin{array}{r} 34 \\ 21 \\ + 12 \\ \hline \square \end{array}$$

- 4 Colorea del mismo color los relojes que señalan la misma hora.




5 Colorea los barcos según se indica.

Anterior a 60 →  verde.



Posterior a 69 →  rojo.



Tiene la cifra 6 en las unidades →  amarillo.

7 D y 8 U →  azul.



Tiene la cifra 6 en las decenas →  naranja.

6 Calcula y ordena de mayor a menor los resultados.

$$\begin{array}{r} 76 \\ - 12 \\ \hline \square \end{array}$$

$$\begin{array}{r} 25 \\ + 43 \\ \hline \square \end{array}$$


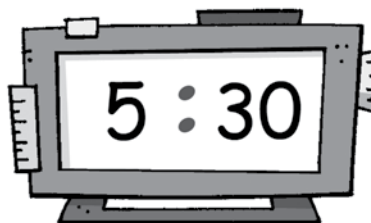
$$\begin{array}{r} 67 \\ - 16 \\ \hline \square \end{array}$$

$$\begin{array}{r} 33 \\ + 41 \\ \hline \square \end{array}$$

$$\begin{array}{r} 79 \\ - 25 \\ \hline \square \end{array}$$

>  ○  ○  ○

7 Escribe la hora que marca cada reloj.



Son las

\_\_\_\_\_

\_\_\_\_\_

Son las

\_\_\_\_\_

\_\_\_\_\_

Son las

\_\_\_\_\_


\_\_\_\_\_

1 Escribe el número anterior y el número posterior.

← setenta →        ←  $50 + 9$  →

← 7D y 1U →        ← diecinueve →

2 Rodea los números que tienen la cifra 7 en las decenas de verde y los que tienen la cifra 8 en las unidades, de rojo.



3 Lee y resuelve.

En el autobús viajan 26 niñas, 30 niños y 3 adultos.  
¿Cuántas personas viajan en el autobús?


Viajan

4 Completa ordenando los números de menor a mayor:

67 72 27

□	→		→	□	+	□
□	→		→	□	+	□
□	→		→	□	+	□

5 Coloca, resuelve y une con su resultado.

40 + 17 + 22    16 + 32 + 30    11 + 28 + 30    25 + 30 + 12

<table border="1" style="width: 100%; height: 100%; border-collapse: collapse;"> <tr><th style="width: 50%;">D</th><th style="width: 50%;">U</th></tr> <tr><td style="height: 100px;"></td><td></td></tr> </table>	D	U			<table border="1" style="width: 100%; height: 100%; border-collapse: collapse;"> <tr><th style="width: 50%;">D</th><th style="width: 50%;">U</th></tr> <tr><td style="height: 100px;"></td><td></td></tr> </table>	D	U			<table border="1" style="width: 100%; height: 100%; border-collapse: collapse;"> <tr><th style="width: 50%;">D</th><th style="width: 50%;">U</th></tr> <tr><td style="height: 100px;"></td><td></td></tr> </table>	D	U			<table border="1" style="width: 100%; height: 100%; border-collapse: collapse;"> <tr><th style="width: 50%;">D</th><th style="width: 50%;">U</th></tr> <tr><td style="height: 100px;"></td><td></td></tr> </table>	D	U		
D	U																		
D	U																		
D	U																		
D	U																		
+	+	+	+																
60 + 9	70 + 9	60 + 7	70 + 8																

6 Completa los relojes siguiendo la serie.

