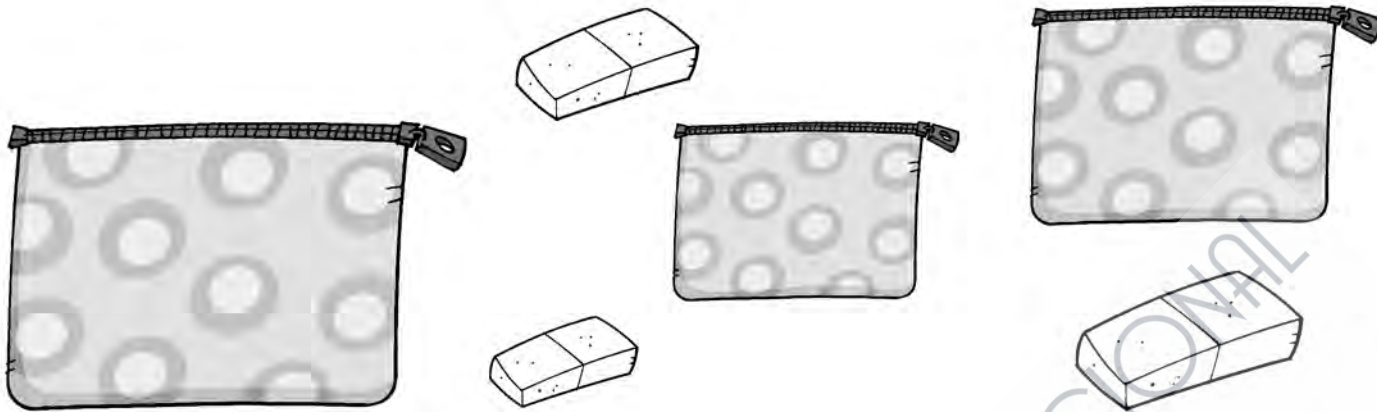



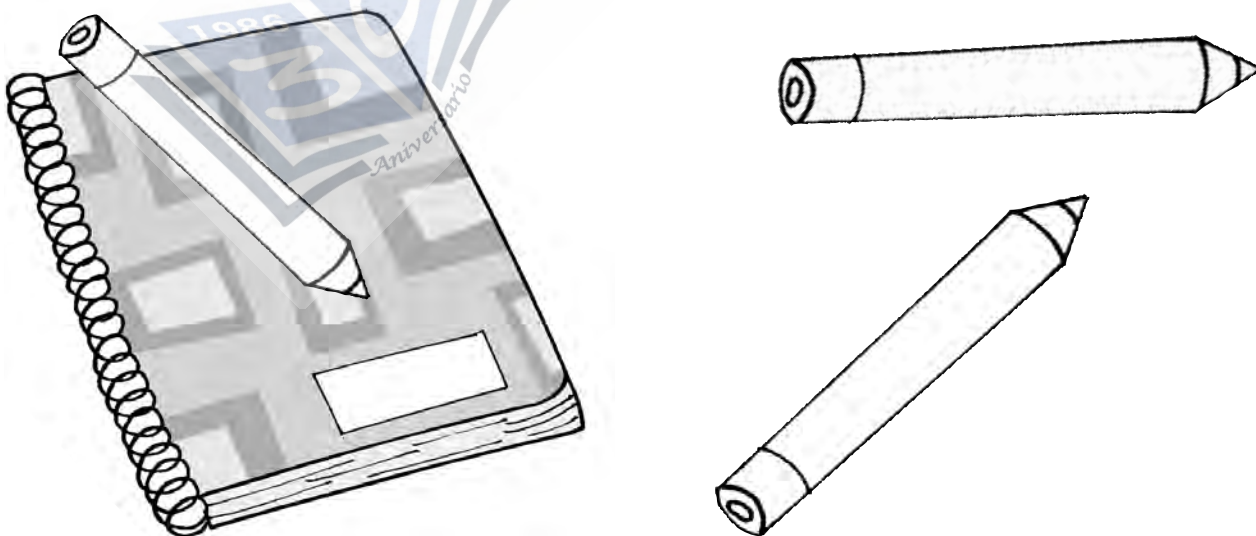
1 Rodea el estuche grande y colorea la goma pequeña.



2 Cuenta y colorea el número de cuadernos de cada grupo.



3 Colorea el lápiz que está encima de la libreta.




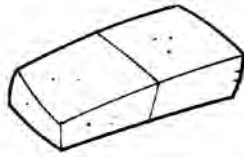
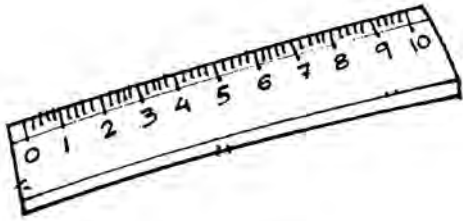
1 Resuelve las sumas y colorea cada dibujo según el código.

4 → rojo 3 → azul 5 → verde

$3 + 2 = \square$

$1 + 2 = \square$

$3 + 1 = \square$



2 ¿Cuántos coches tienen Luis y su mamá en total? Completa.

Luis




Mamá



$\square + \square = \square$



3 Marca lo correcto.



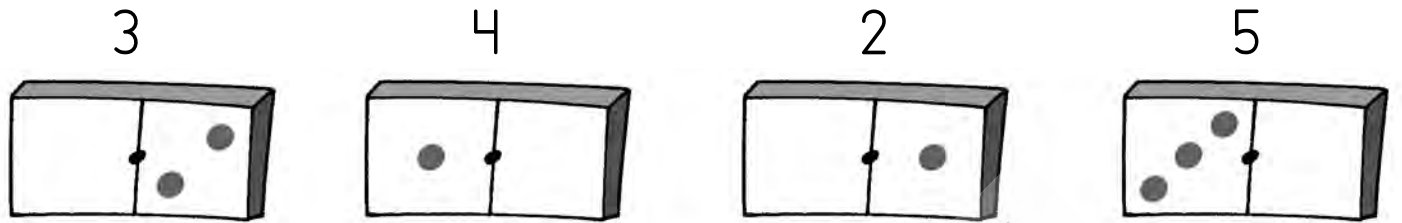
3 ↑ y 4 ↓

2 ↑ y 1 ↓

3 ↑ y 4 ↓

1 ↑ y 2 ↓

4 Dibuja lo que falta en cada caso.



5 Une cada suma con el dibujo adecuado.

$4 + 1 = \square$



$0 + 2 = \square$

$3 + 0 = \square$



$1 + 2 = \square$

$1 + 3 = \square$



$2 + 3 = \square$

$1 + 1 = \square$



$2 + 2 = \square$

6 Cuenta y escribe cuántos lápices hay debajo de cada mesa.

